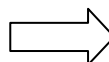


## Pourquoi résister ? (la salle du refus)

### A) Le souvenir de la Grande Guerre

1. Quelle est la situation d'une partie du Nord-Pas-de-Calais pendant les années 1914-1918 ?  
.....

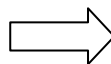
2. Citez un acte de résistance auquel se livre alors le jeune Léon Trulin exécuté par les Allemands en 1915.  
.....



Statue de Léon Trulin

3. Citez un acte de résistance auquel se livre Louise de Bettignies.  
.....

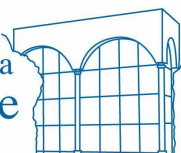
4. Quelle est la profession d'Edith Cavell, « héroïne » de la Première Guerre mondiale ?  
.....




### B) L'invasion de 1940

5. Complétez le tableau avec les termes correspondant aux définitions.

Expression attribuée à Roland Dorgelès qui désigne la période septembre 1939-mai 1940 au cours de laquelle malgré l'état de guerre, il n'y a quasiment pas de combats.	.....
Ligne de fortification et de défense construite par la France pour se protéger d'une invasion allemande.	.....
Nom donné à la fuite des populations civiles devant l'offensive allemande (mai-juin 1940).	.....
Nom de l'armée allemande.	.....
Mot allemand désignant un avion bombardant en piqué.	.....
Terme allemand signifiant « véhicule de combat blindé. »	.....



6. Quelle est la fonction de Fernand Carles pendant la Seconde Guerre mondiale ?  
 .....



7. Comme appelle-t-on l'opération d'évacuation des soldats britanniques et français à Dunkerque ?  
 .....

8. Quand se termine-t-elle ?  
 .....

### C) La défaite, l'Occupation et le régime de Vichy


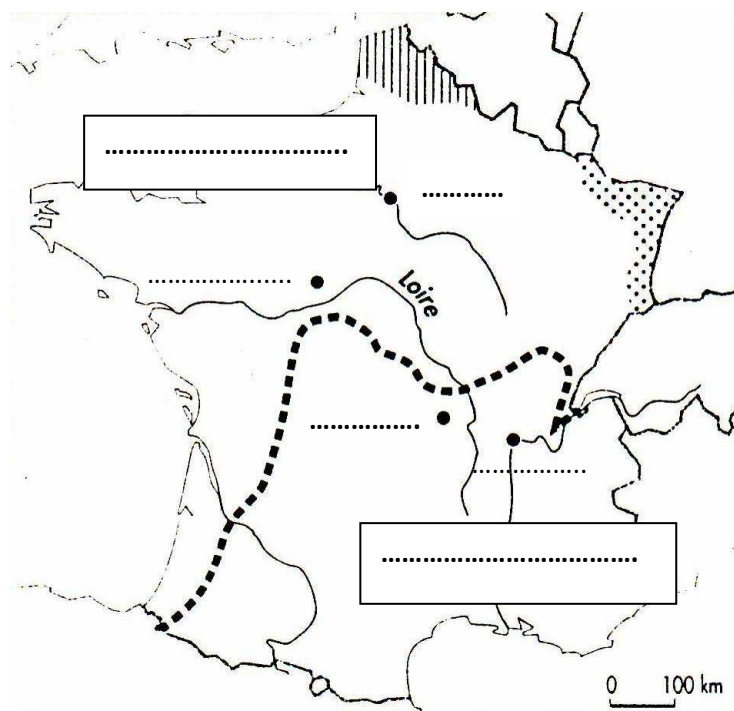
9. Qui réclame l'armistice par un message prononcé à la radio le 17 juin 1940 ? Quelle est alors sa fonction ?  
 .....



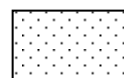
10. Comment appelle-t-on les postes de radio à l'époque ?  
 .....

11. Où et quand est signé l'armistice ?  
 .....

12. Sur la carte simplifiée ci-dessous, placez les noms de ville suivants : Vichy, Paris, Lyon, Montoire. Puis, dans le bon rectangle, placez la zone dite libre et la zone occupée. Enfin, complétez la légende.



**Zone rattachée au commandement allemand de**  
 .....

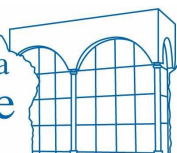


**Zone annexée à**  
 .....



.....


**La France après l'armistice de juin 1940**



13. Quelles sont les trois « valeurs » de la Révolution nationale que met en place Pétain ?

.....

14. Identifiez l'homme situé à gauche et celui à droite sur la photo. Dans quelle ville a lieu cette poignée de main ? De quoi cette rencontre est-elle le symbole ?



.....  
 .....  
 .....

15. L'occupant allemand se livre à un véritable pillage économique du Nord-Pas-de-Calais. Sur quoi repose alors la puissance industrielle du Nord-Pas-de-Calais ?

.....


16. Quel est le passe-temps favori du soldat allemand qui occupe la région ?

.....

17. Que doivent porter les Juifs de la région à partir de mai 1942 ?

.....

18. Quel adjectif utilise-t-on pour qualifier cette affiche nazie hostile à l'égard des Juifs ?



.....

19. Quel texte le gouvernement de Vichy promulgue-t-il le 3 octobre 1940 ?

.....

20. Qu'interdit ce texte ?

.....

.....

.....

