

# Pourquoi résister ? (la salle du refus)

## (fiche corrigée)


### A) Le souvenir de la Grande Guerre

1. Quelle est la situation d'une partie du Nord-Pas-de-Calais pendant les années 1914-1918 ?

.....

2. Citez un acte de résistance auquel se livre alors le jeune Léon Trulin exécuté par les Allemands en 1915.

.....



Statue de Léon Trulin


### B) L'invasion de 1940

3. Complétez le tableau avec les termes correspondant aux définitions.

Expression attribuée à Roland Dorgelès qui désigne la période septembre 1939-mai 1940 au cours de laquelle malgré l'état de guerre, il n'y a quasiment pas de combats.	.....
Ligne de fortification et de défense construite par la France pour se protéger d'une invasion allemande.	.....
Opération d'évacuation des soldats britanniques et français à Dunkerque.	.....
Nom donné à la fuite des populations civiles devant l'offensive allemande (mai-juin 1940).	.....
Nom de l'armée allemande.	.....
Mot allemand désignant un avion bombardant en piqué.	.....
Terme allemand signifiant « véhicule de combat blindé ».	.....

4. Quelle est la fonction de Fernand Carles pendant la Seconde Guerre mondiale ?

.....  
.....



Fernand Carles en 1937




## C) La défaite, l'Occupation et le régime de Vichy

5. Qui réclame l'armistice par un message prononcé à la radio le 17 juin 1940 ? Quelle est alors sa fonction ?

.....  
 .....

6. Comment appelle-t-on les postes de radio à l'époque ?

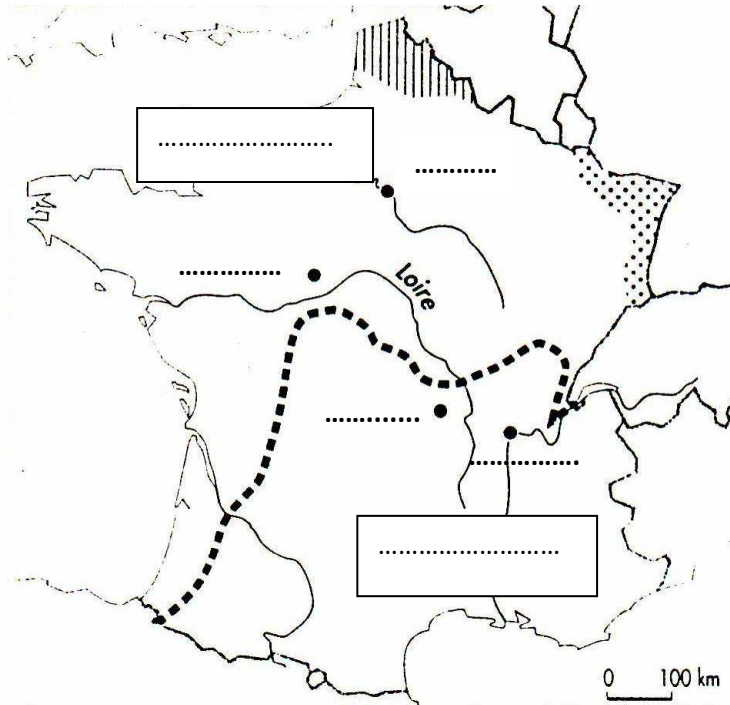
..... 


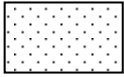

7. Où et quand est signé l'armistice ?

.....



8. Sur la carte simplifiée ci-dessous, placez les noms de ville suivants : Vichy, Paris, Lille, Lyon, Montoire. Puis, dans le bon rectangle, placez la zone dite libre et la zone occupée. Enfin, complétez la légende.



-  Zone rattachée .....
- .....
- .....
-  Zone .....
- .....
- .....
-  Ligne de .....

### La France après l'armistice

9. Quelles sont les trois « valeurs » de la Révolution nationale que met en place Pétain ?

.....

10. Identifiez l'homme situé à gauche et celui à droite sur la photo. Dans quelle ville a lieu cette poignée de main ? De quoi cette rencontre est-elle le symbole ?

.....  
 .....



11. L'occupant allemand se livre à un véritable pillage économique du Nord-Pas-de-Calais.  
Sur quoi repose alors la puissance industrielle du Nord-Pas-de-Calais ?

.....

12. Quel est le passe-temps favori du soldat allemand qui occupe la région ?

.....

13. Que doivent porter les Juifs de la région à partir de mai 1942 ?

.....

14. Comment appelle-t-on cette hostilité à l'égard des Juifs ?

.....

